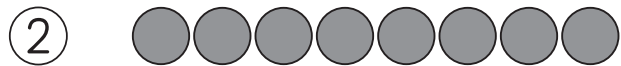


① いくつと いくつですか。



7は 5と



8は 2と




6は 3と



9は 4と

② あと いくつで 10に  
なりますか。



あと  つ

③ で つないで 10に  
しましょう。

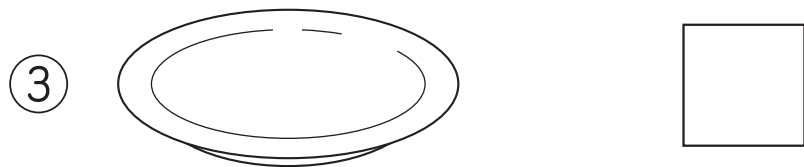
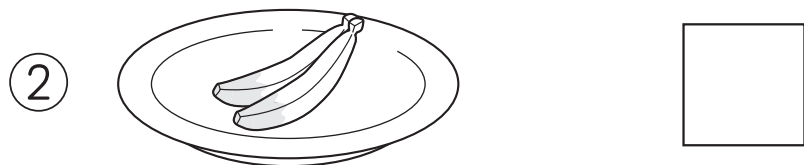
2 .  5

6 .  8

5 .  4

9 .  1

④ ばなののかずをかきま  
しょう。



「いくつと いくつ」の がくしゅうは  
たのしかったですか？



「いくつと いくつ」の がくしゅうは  
よく わかりましたか？

