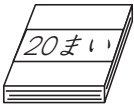
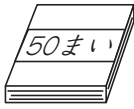
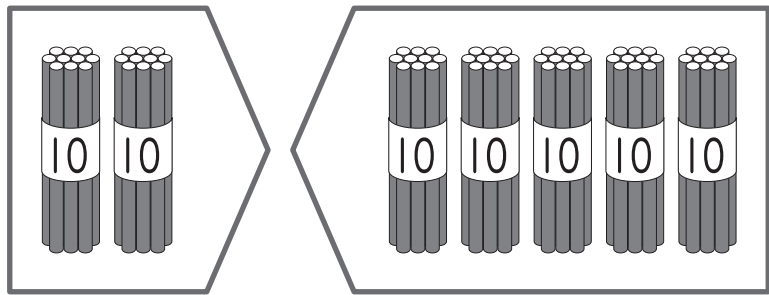


①  と  で なんまいで  
しょう。



しき

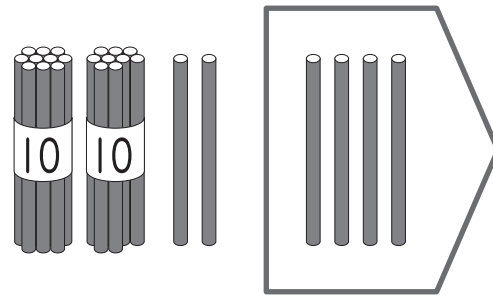
$$\square + \square = \square$$

こたえ  まい

② つぎの けいさんを しましょう。

- ①  $40 + 20$
- ②  $30 + 60$
- ③  $50 + 50$
- ④  $70 - 30$
- ⑤  $90 - 20$
- ⑥  $100 - 40$

③ いろがみを 26まい もって います。  
4まい つかうと のこりは  
なんまいで しょう。




しき

$$\square - \square = \square$$


こたえ  まい

④ つぎの けいさんを しましょう。

- ①  $56 + 3$
- ②  $91 + 5$
- ③  $63 + 4$
- ④  $37 - 5$
- ⑤  $84 - 3$
- ⑥  $79 - 6$

 「100までの かずの けいさん」の  
がくしゅうは たのしかったですか？



 「100までの かずの けいさん」の  
がくしゅうは よく わかりましたか？

