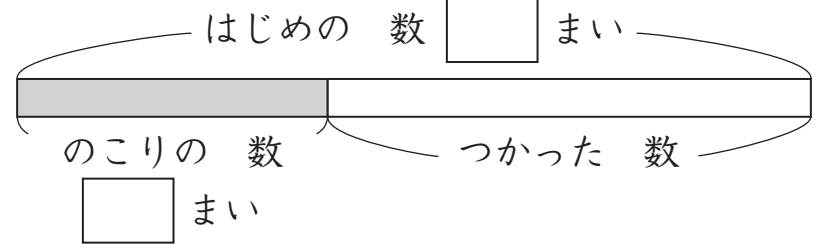


① 色紙が 23まい ありました。
つるを おるのに 何まいか
つかったのて、のこりが 9まいに
なりました。

何まい つかいましたか。
図の □に あてはまる 数を
かいて 考えましょう。




(しき)

(答え) まい

② こうえんで 子どもが 7人 あそんで
います。そこへ 何人か 来たので、
みんなで 22人 に なりました。

何人 来ましたか。
図の □に あてはまる 数を
かいて 考えましょう。

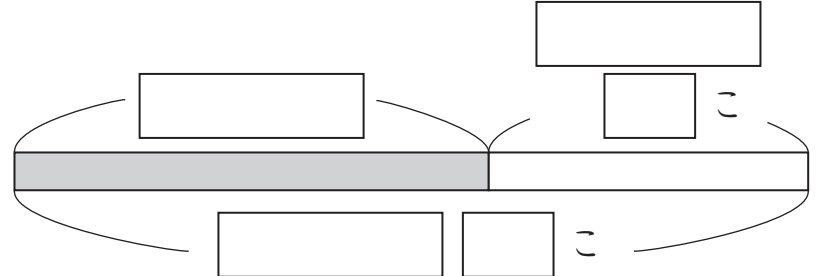


(しき)

(答え) 人

③ りんごが 何こか あります。
8こ もらったので、20こに
なりました。

はじめ 何こ ありましたか。
図に かいて 考えましょう。

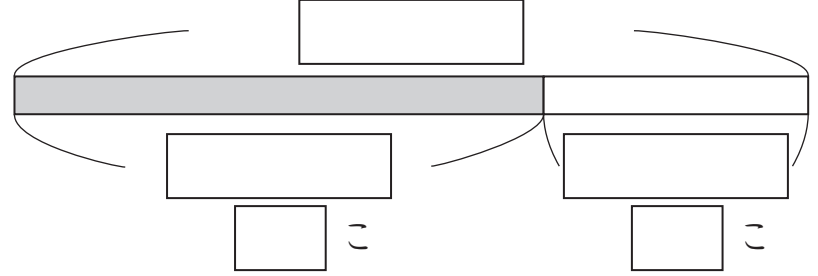


(しき)

(答え) こ

④ クッキーが あります。
きょう 8こ たべたので、
のこりが 16こ に なりました。

はじめ 何こ ありましたか。
図に かいて 考えましょう。



(しき)

(答え) こ

..... (かくれた 数は いくつ) の 学しゅうを ふりかえって

★ この 学しゅうは たのしかったですか。
(はい まあまあ すこし いいえ)

● じゅぎょうの 中で、おもしろかった ことや わかった ことなどの
かんそうを かきましょう。

◆ この 学しゅうは よく わかりましたか。
(はい まあまあ すこし いいえ)