
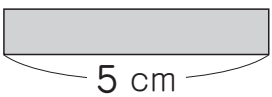


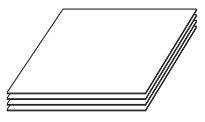
① かけ算のしきに書いて答えをもとめましょう。

①  の 4 さら分
2こ

× = こ

②  の 3 本分
5 cm

× = cm


③  の 5 ばい
4まい

× = まい

② つぎの計算をしましょう。

- ① 5 × 4 ② 2 × 7
- ③ 3 × 3 ④ 4 × 4
- ⑤ 3 × 8 ⑥ 2 × 9
- ⑦ 5 × 6 ⑧ 4 × 2
- ⑨ 4 × 8 ⑩ 2 × 5
- ⑪ 5 × 3 ⑫ 3 × 7

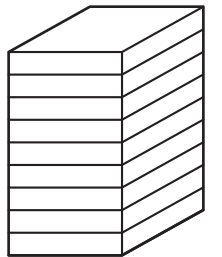
③ 1つのふくろにあめが4こずつはいつています。6ふくろでは何こになりますか。



(しき)

(答え) こ

④ 高さ3cmのはこを9こつむと、ぜんぶで高さは何cmになりますか。



(しき)

(答え) cm

⑤ 画用紙を8まい買います。1まい5円の画用紙をかうと、何円になりますか。

(しき)

(答え) 円

(かけ算 (1)) の 学しゅうを ふりかえって

★ この学しゅうは たのしかったですか。

(はい まあまあ すこし いいえ)

◆ この学しゅうは よく わかりましたか。

(はい まあまあ すこし いいえ)

● じゅぎょうの 中で、おもしろかった ことや わかった ことなどの かんそうを かきましょう。