

◆各問題について、自分で自信があるかないか、マークに○をつけましょう。

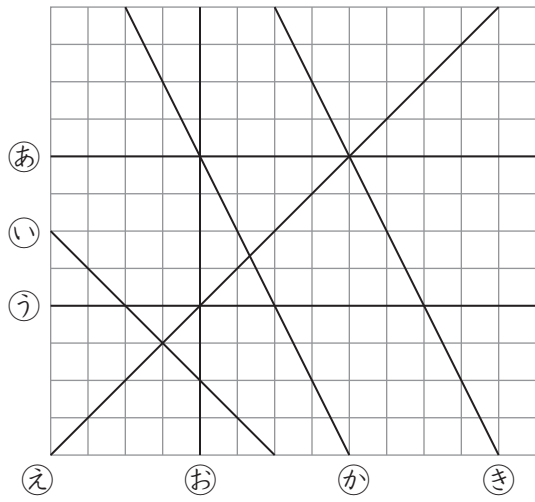
😊 自信あり 😊 まあまあ自信あり 😞 少し自信なし 😞 自信なし

4年

5. 垂直・平行と四角形

クラス	名
	組前

① 下の図で、^{すいじやく}垂直になっている直線はどれとどれですか。また、^{へいこう}平行になっている直線はどれとどれですか。記号で答えましょう。

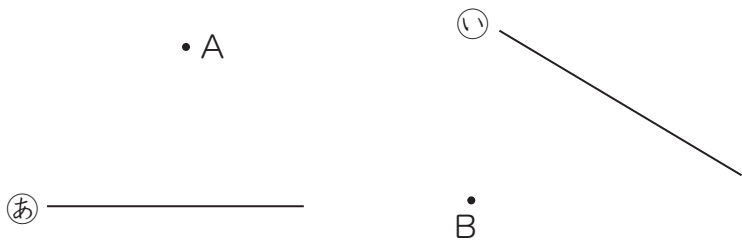


▶ 垂直 (と) (と) (と)

▶ 平行 (と) (と)

😊 😊 😞 😞

② 1組の三角じょうぎを使って、点Aを^{すいじやく}垂直な直線、点Bを^{へいこう}平行な直線をかきましよう。



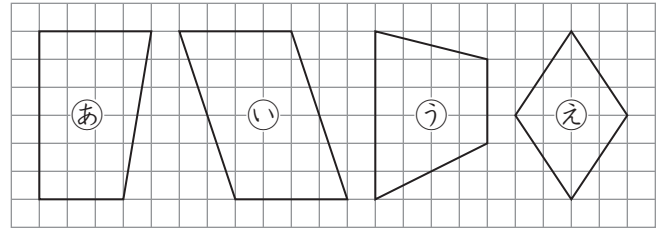
😊 😊 😞 😞

③ 1組の三角じょうぎを使って、たて2cm、横4cmの長方形を右にかきましよう。



😊 😊 😞 😞

④ 下の四角形の名前をかきましよう。

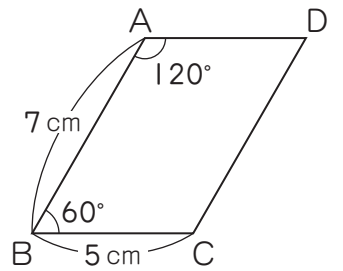


あ () い ()

う () え ()

😊 😊 😞 😞

⑤ 右の^{へいこうしへんけい}平行四辺形について、次の問題に答えましよう。



① 角Cの大きさは何度ですか。

()

② 角Dの大きさは何度ですか。

()

③ 辺ADの長さは何cmですか。

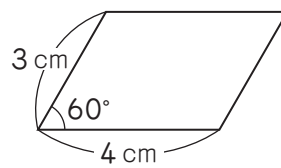
()

④ 点Aと点Cを結んだ直線を何といいますか。

()

😊 😊 😞 😞

⑥ 下のような平行四辺形をかきましよう



😊 😊 😞 😞

(垂直・平行と四角形) の学習をふりかえって

★ この学習は楽しかったですか。

(はい まあまあ 少し いいえ)

● 感想を自由にかきましよう。(じゅぎょうの中で、おもしろかったことや気づいたことなど)

◆ この学習はよくわかりましたか。

(はい まあまあ 少し いいえ)