

各問題について、自分で自信があるかないか、マークに○をつけましょう。

😊 自信あり 😊 まあまあ自信あり 😞 少し自信なし 😞 自信なし

4年

16. 直方体と立方体

クラス	名
	組前

① 次の□にあてはまることばや数をかきましょう。

① 長方形や、長方形と正方形で囲まれた形を

□ といいいます。

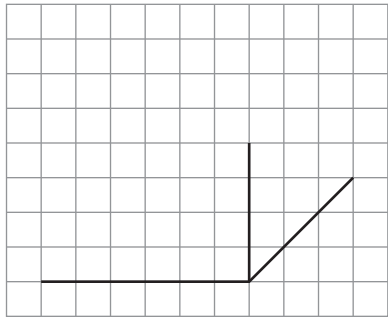
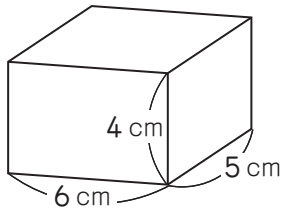
② 正方形だけで囲まれた形を □ といいいます。

③ 直方体や立方体の面の数は □ つ、辺の数は

□, 頂点の数は □ つあります。

😊 😊 😞 😞

② 下のような直方体の見取図の続きをかきましょう。
(方がんの | 目もりを 1cm とします。)



😊 😊 😞 😞

③ 右の立方体のでん開図を組み立てます。

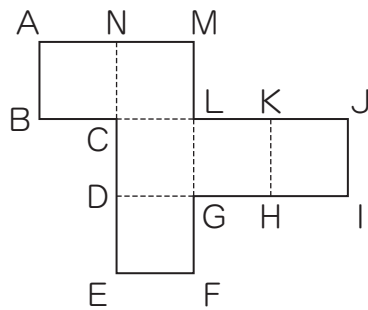
① 辺 MN と重なるのはどの辺ですか。

()

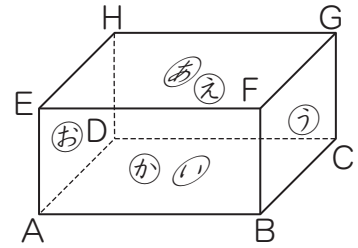
② 頂点 A と重なる頂点をすべてかきましょう。

()

😊 😊 😞 😞



④ 下の直方体を見て答えましょう。



① ⑥の面と平行な面を答えましょう。

()

② 辺 EF と平行な辺はいくつありますか。

()

③ 辺 EF と垂直な辺はいくつありますか。

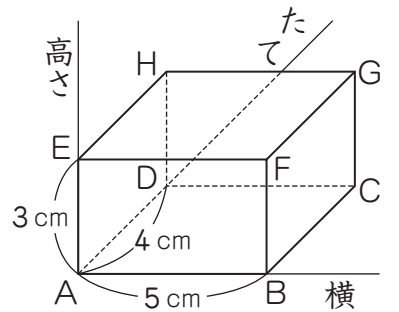
()

④ ⑥の面と平行な辺をすべてかきましょう。

()

😊 😊 😞 😞

⑤ 右の直方体で、頂点 A をもとにしたとき、次の位置にある頂点を答えましょう。



① (横 5cm, たて 0cm, 高さ 0cm)

()

② (横 5cm, たて 4cm, 高さ 3cm)

()

😊 😊 😞 😞

(15. 直方体と立方体) の学習をふりかえって

★ この学習は楽しかったですか。

(はい まあまあ 少し いいえ)

● 感想を自由にかきましょう。(じゅぎょうの中で、おもしろかったことや気づいたことなど)

◆ この学習はよくわかりましたか。

(はい まあまあ 少し いいえ)